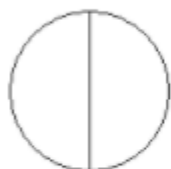





Les fractions

Exercice 23 : représenter une fraction.

Dans chaque cas, colorier une partie qui représente la fraction écrite au-dessous.



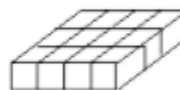
$$\frac{1}{2}$$



$$\frac{1}{2}$$



$$\frac{2}{6}$$



$$\frac{3}{6}$$