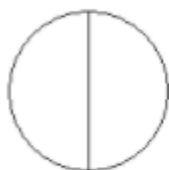



**Exercice 6 : représenter une fraction**

---

Dans chaque cas, colorier une partie qui représente la fraction écrite au-dessous.



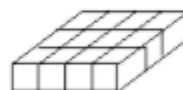
$$\frac{1}{2}$$



$$\frac{1}{2}$$



$$\frac{2}{6}$$



$$\frac{3}{6}$$