

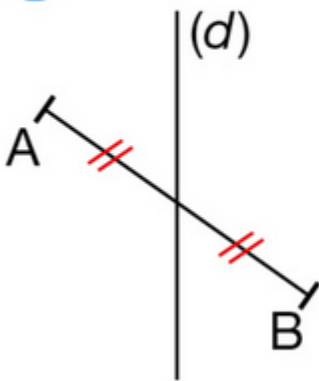


Segments, droites et constructions

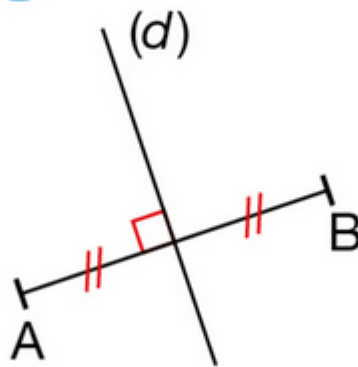
Exercice 8 : la médiatrice d'un segment.

a. Sur quelle figure la médiatrice (d) du segment $[AB]$ est-elle correctement tracée ?

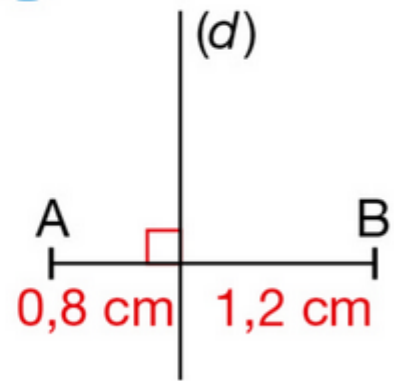
1



2



3



b. Quelles sont les erreurs sur les autres figures ?