

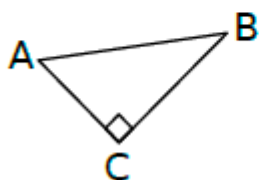


# La trigonométrie

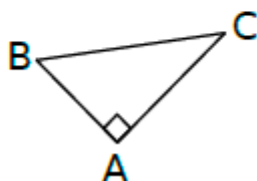
## Exercice 29 : associer les bonnes formules.

Complète le tableau avec le numéro du triangle qui convient.

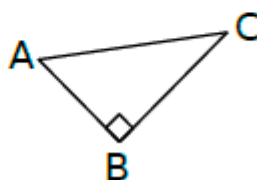
**Triangle n° 1**



**Triangle n° 2**



**Triangle n° 3**



		n°
a.	$\cos \widehat{ABC} = \frac{AB}{BC}$	
b.	$\tan \widehat{ABC} = \frac{AC}{BC}$	

		n°
c.	$\sin \widehat{BAC} = \frac{BC}{AC}$	
d.	$\tan \widehat{BAC} = \frac{BC}{AC}$	