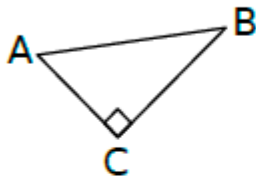


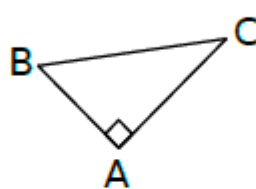
Exercice 7 : associer les bonnes formules

Complète le tableau avec le numéro du triangle qui convient.

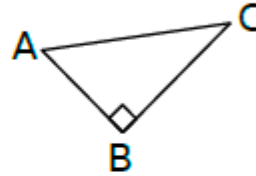
Triangle n° 1



Triangle n° 2



Triangle n° 3



		n°
a.	$\cos \widehat{ABC} = \frac{AB}{BC}$	
b.	$\tan \widehat{ABC} = \frac{AC}{BC}$	

		n°
c.	$\sin \widehat{BAC} = \frac{BC}{AC}$	
d.	$\tan \widehat{BAC} = \frac{BC}{AC}$	