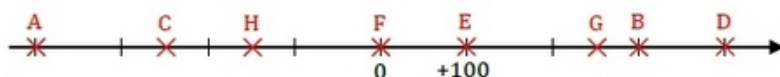
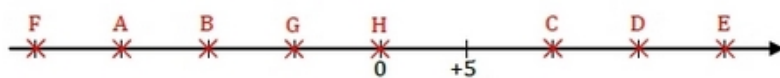
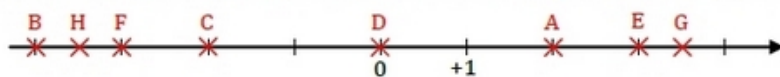


Exercice 29 : nombres relatifs - axe gradué.

– Axes gradués

Dans chacun des cas suivants, donner les abscisses des points A, B, C, D, E, F, G et H.



– Axe gradué (bis)

Tracer une droite graduée et placer les points : A(+3 500) ; B(−4 000) ; C(−1 500) ; D(+3 000) et E(−2 500)

– Rangement

Ranger les nombres suivants dans l'ordre croissant.

−5,8 ; +6,4 ; −5,35 ; +6,28 ; −3,7 ; 0