



Exercice 30 : construire l'autre côté d'un angle

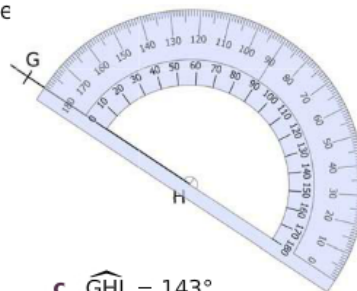
Construis le deuxième côté de l'angle pour qu'il ait la mesure indiquée



a. $\widehat{ABC} = 55^\circ$



b. $\widehat{DEF} = 108^\circ$



c. $\widehat{GHI} = 143^\circ$