







Exercice de maths en sixieme



Problèmes et calculs

Exercice 34 : les tarifs d'un parc animalier.

Voici les tarifs pour visiter un parc animalier.

 Moins de 4 ans Gratuit	 4 à 12 ans 3,80 €	 Adulte 7,20 €
 Senior (plus de 60 ans) 5,70 €	 Personne handicapée 3,60 €	 Groupe (à partir de 10 personnes) 5,80 €

a. Quel prix paiera une famille composée de deux adultes et de deux enfants âgés respectivement de 3 et 8 ans ?

b. Un groupe de 52 adultes souhaite visiter ce parc. Parmi ces personnes, trois sont handicapées et 25 ont plus de 60 ans. Ce groupe dispose de 300 € pour la visite. Cette somme suffira-t-elle ?

c. Un groupe classe de 28 élèves de 6^e visite le parc animalier. Trois professeurs accompagnent les élèves. Un adulte par groupe peut entrer gratuitement. La visite leur revient à 84,40 €. Quel est le prix de la visite pour un élève ?