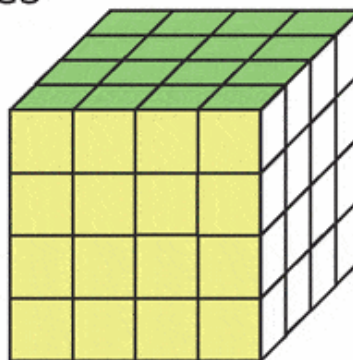

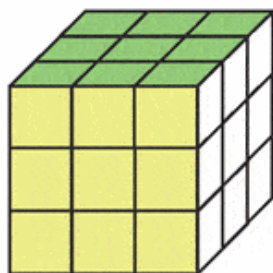


Niveau : sixieme

Les volumes

Exercice 10 : construire un cube

a. Détermine le volume des cubes en centimètres cubes.



.....

.....

b. Yani veut construire un cube de 5 cm de côté en utilisant des petits cubes en bois de 1 cm de côté. Combien de cubes doit-il prévoir ?

.....

.....

.....

c. Louise a commencé la construction d'un cube, combien lui manque-t-il de petits cubes pour terminer son empilement ?

.....

.....

.....

.....

.....

