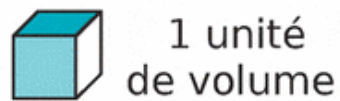
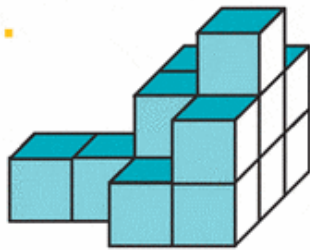


Exercice 13 : déterminer ces unités de volume

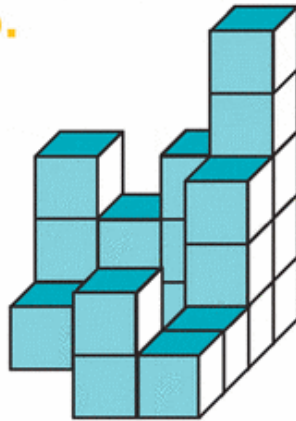
Dénombrer les unités de volume (u.v.) qui composent les solides suivants afin de déterminer leur volume.



a.



b.



c.

