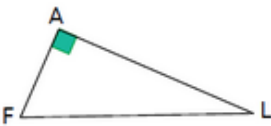
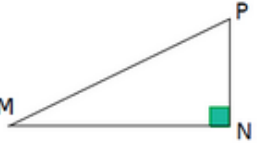
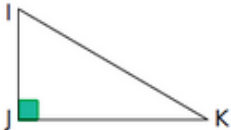
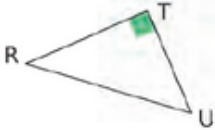


Le théorème de Pythagore

Exercice 43 : écrire l'égalité de Pythagore

Pour chaque triangle, indique en quel point il est rectangle, quelle est son hypoténuse, puis écris l'égalité de Pythagore correspondante.

			
AFL est rectangle en
Son hypoténuse est
$FL^2 =$			