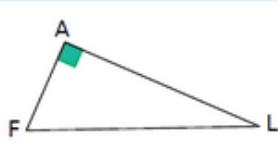
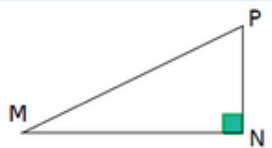

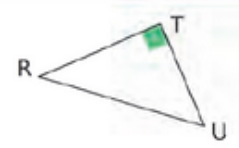


Le théorème de Pythagore

Exercice : ecrire l'égalité de Pythagore

Pour chaque triangle, indique en quel point il est rectangle, quelle est son hypoténuse, puis écris l'égalité de Pythagore correspondante.

			
AFL est rectangle en .....	.....	.....	.....
Son hypoténuse est .....	.....	.....	.....
$FL^2 = \dots\dots\dots$	.....	.....	.....