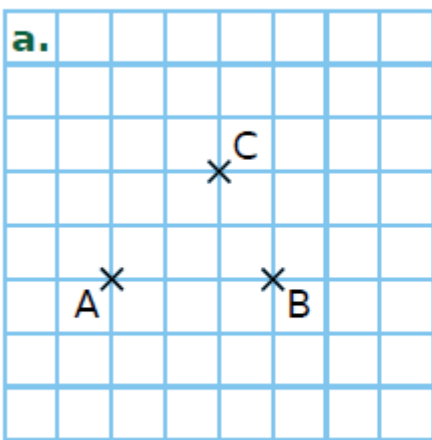




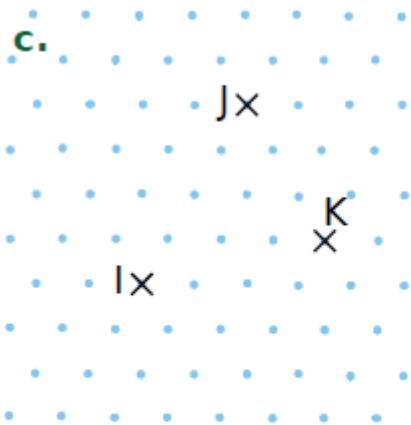
# La translation

## Exercice 17 : translation et construction d'images.

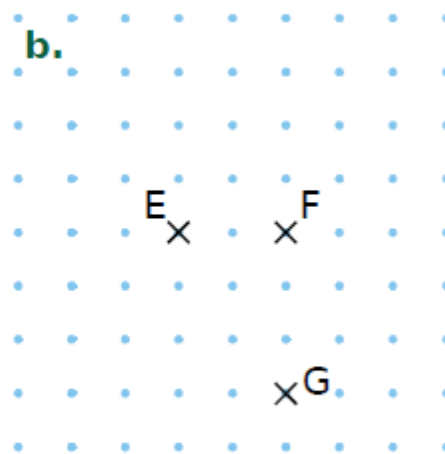
Effectue les constructions demandées.



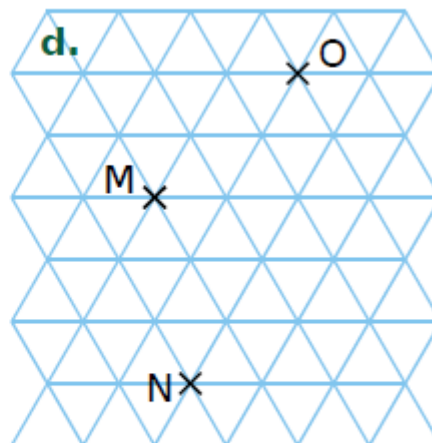
Construis D, l'image de B par la translation qui transforme A en C.



Construis L, l'image de I par la translation qui transforme K en J.



Construis H, l'image de E par la translation qui transforme G en F.



Construis P, l'image de N par la translation qui transforme M en O.