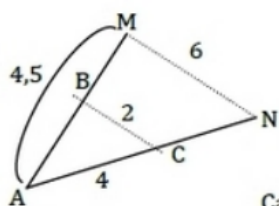


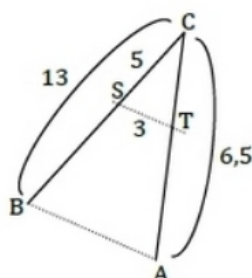
Le théorème de Thalès

Exercice 18 : applications simples de la partie directe

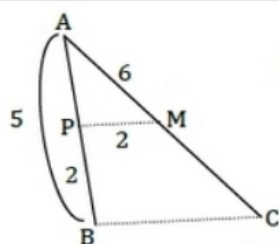
Dans chaque cas, les droites en pointillés sont parallèles.



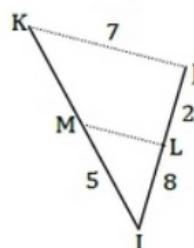
Calculer AN et AB



Calculer CT et AB



Calculer AC et BC



Calculer IK et ML