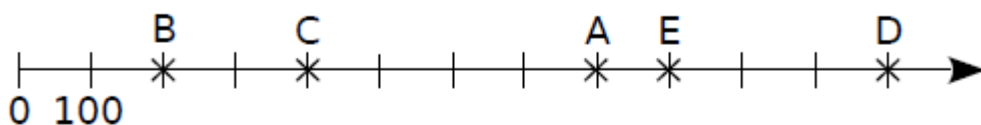


Exercice 16 : droite graduée et nombre entier

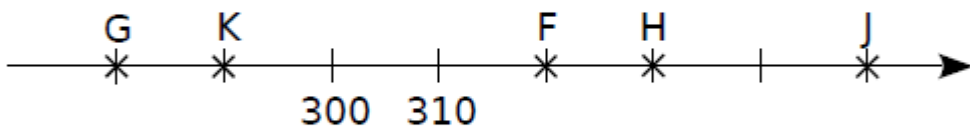
Dans chacun des cas suivants, écris le nombre entier correspondant à chaque point.

a.



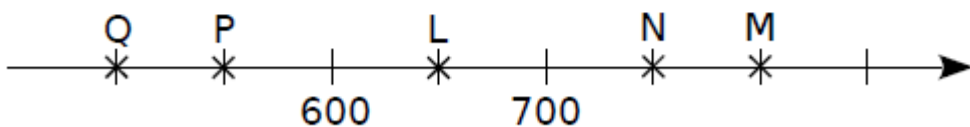
A(.....) B(.....) C(.....) D(.....) E(.....)

b.



F(.....) G(.....) H(.....) J(.....) K(.....)

c.



L(.....) M(.....) N(.....) P(.....) Q(.....)