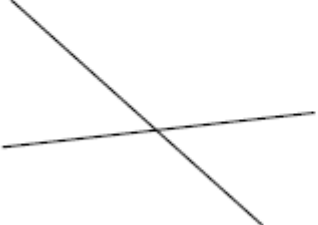

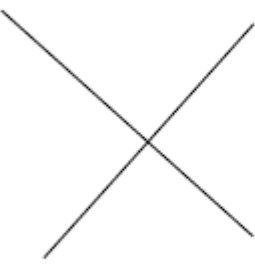
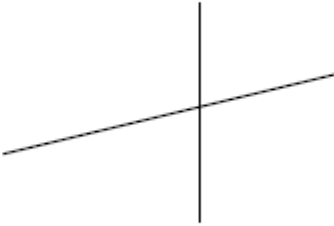




# Droites parallèles et perpendiculaires

## Exercice 7 : les droites sont-elles perpendiculaires ?

Les droites sont-elles perpendiculaires ?  
Entoure la bonne réponse.

<b>a.</b> 	<b>b.</b> 
Oui      Non	Oui      Non
<b>c.</b> 	<b>d.</b> 
Oui      Non	Oui      Non