





La symétrie axiale

Exercice 5 : figures symétriques par rapport à un axe

Indique si les deux figures sont symétriques par rapport à un axe.

a.		b.		c.		d.	
Oui	Non	Oui	Non	Oui	Non	Oui	Non