

**Exercice 9 : coder l'angle droit d'un triangle**

---

Pour chaque triangle, code les angles droits et les longueurs égales puis donne la nature de chacun en justifiant.

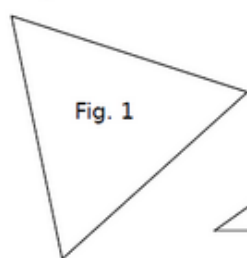


Fig. 1

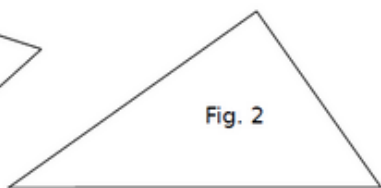


Fig. 2

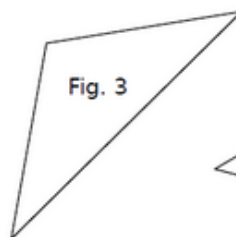


Fig. 3

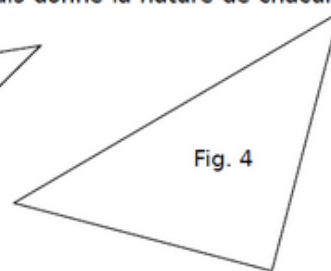


Fig. 4

Fig. 1 : .....

Fig. 2 : .....

Fig. 3 : .....

Fig. 4 : .....