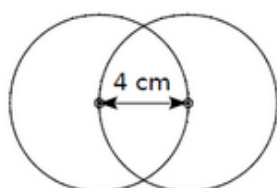


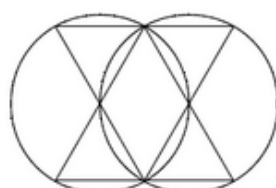
**Exercice 20 : dessiner ces figures et programme de construction**

---

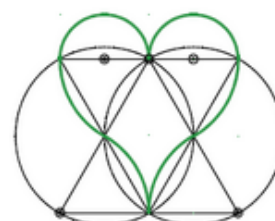
Dessine le cœur en suivant, dans l'ordre, les étapes détaillées de la construction.  
Le symbole  $\odot$  indique la position des centres des cercles et arcs de cercle.



Étape 1



Étape 2



Étape 3