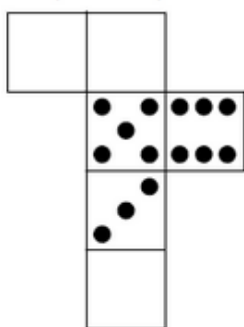
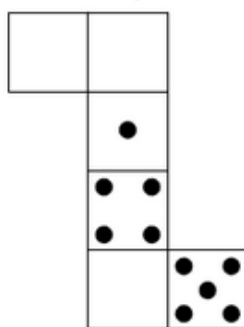


Exercice 5 : compléter les patrons

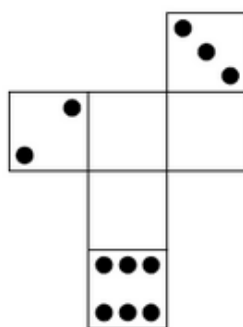
Sachant que, sur un dé, la somme des nombres de points marqués sur des faces opposées est 7, complète les patrons suivants avec les points manquants.



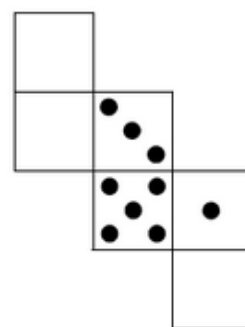
a.



b.



c.



d.