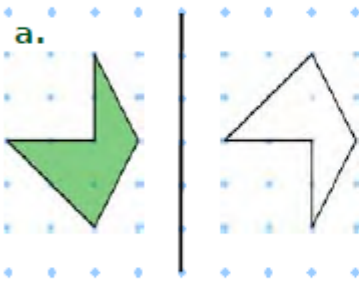




La symétrie axiale

Exercice 1 : les figures sont-elles symétriques ?.

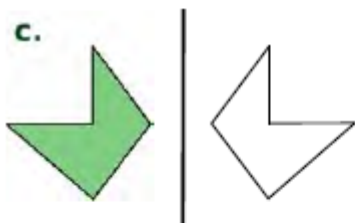
La figure verte et la figure blanche sont-elles symétriques par rapport à la droite tracée en gras ? Entoure la bonne réponse.



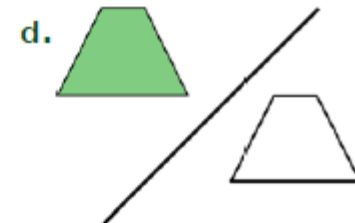
oui / non



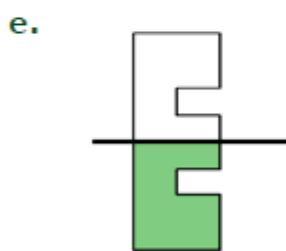
oui / non



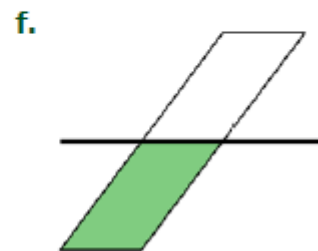
oui / non



oui / non



oui / non



oui / non