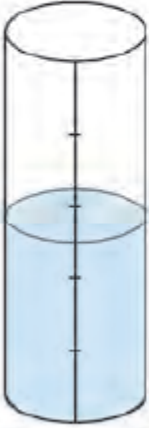
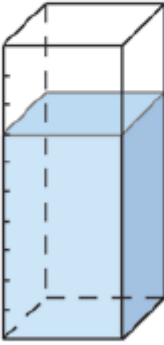

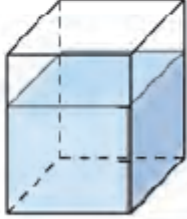


Exercice 6 : capacités de récipients

La capacité des récipients est indiquée au-dessus de chacun d'eux. Quelle quantité d'eau contiennent-ils ? (Attention aux unités.)

<p>a. 5 L</p> 	<p>b. 100 L</p> 	<p>c. 1 daL</p> 	<p>d. 750 mL</p> 
<p>..... L</p>	<p>..... L</p>	<p>..... dL</p>	<p>..... L</p>