
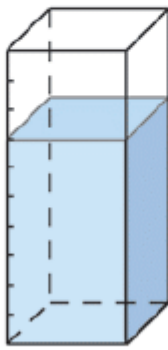

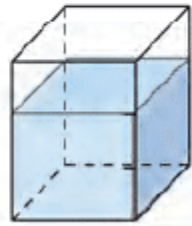


Exercice 6 : capacités de récipients

La capacité des récipients est indiquée au-dessus de chacun d'eux. Quelle quantité d'eau contiennent-ils ? (Attention aux unités.)

a. 5 L	b. 100 L	c. 1 daL	d. 750 mL
			
..... L L dL L