





Exercice 7 : la capacité de récipients d'eau

La capacité des récipients est indiquée au-dessus de chacun d'eux et la quantité d'eau contenue au-dessous

a. 1 L 	b. 100 mL 	c. 50 L 	d. 1 L 
0,7 L	85 mL	0,5 daL	800 mL