





Les durées

Exercice 1 : donner l'heure du matin

Écris l'heure du matin et de l'après-midi indiquées par chaque horloge.

	a.	b.	c.	d.
				
Matin				
Après-midi				