

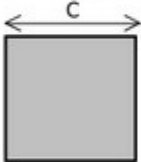




## Aires et périmètres

### Exercice 20 : formules des aires d'une figure géométrique ..

Donner les formules permettant de calculer l'aire A

des figures suivantes :

		
A =	A =	A =