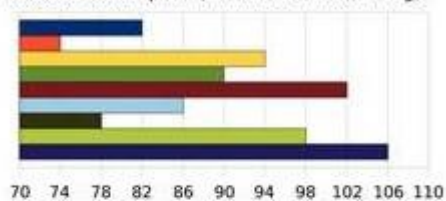


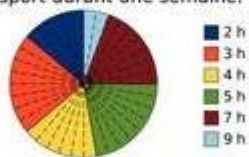
Exercice 15 : graphique et statistiques

À partir de ces trois graphiques, recopie et complète le tableau.


**Série 1 :** On prélève neuf pommes dans une caisse et on les pèse (mesures données en g).



**Série 2 :** On donne ci-dessous la répartition du nombre d'heures que consacrent 36 collégiens à faire du sport durant une semaine.



**Série 3 :** On a relevé les températures dans une ville de Russie pendant une année.



	Étendue	Médiane	Moyenne
Série 1			
Série 2			
Série 3			