

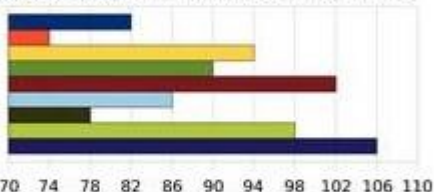


Les statistiques

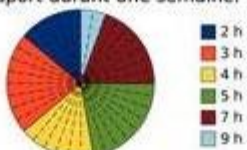
Exercice 6 : graphique et statistiques.

À partir de ces trois graphiques, recopie et complète le tableau.


Série 1 : On prélève neuf pommes dans une caisse et on les pèse (mesures données en g).



Série 2 : On donne ci-dessous la répartition du nombre d'heures que consacrent 36 collégiens à faire du sport durant une semaine.



Série 3 : On a relevé les températures dans une ville de Russie pendant une année.



	Étendue	Médiane	Moyenne
Série 1			
Série 2			
Série 3			