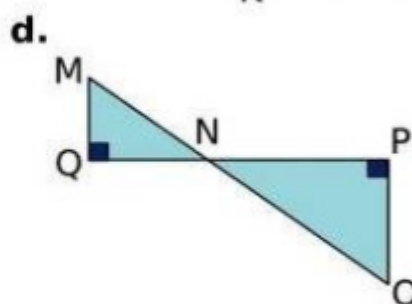
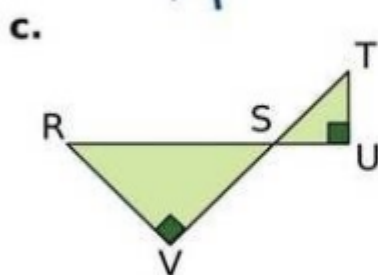
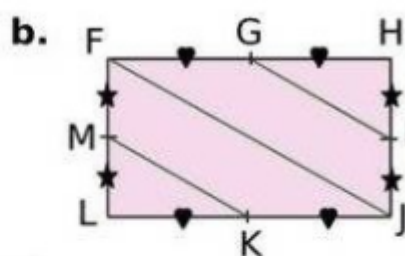
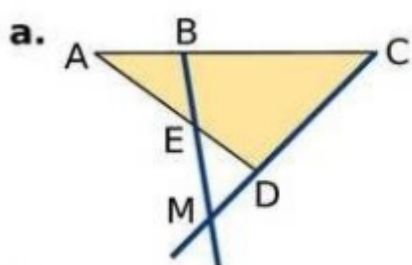


Le théorème de Thalès

Exercice 3 : utilisation du théorème de Thalès

Peut-on utiliser le **théorème de Thalès** dans les figures ci-dessous ?

justifier votre réponse.



e. $[WX]$ est un diamètre du cercle φ et $[XZ]$ est un diamètre du cercle φ' .

