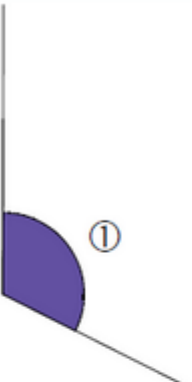
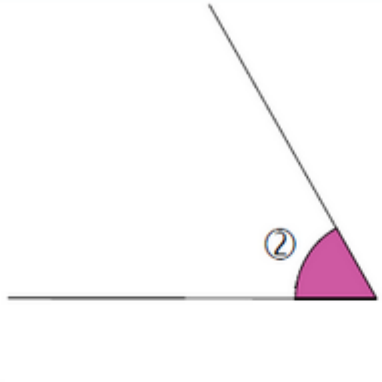
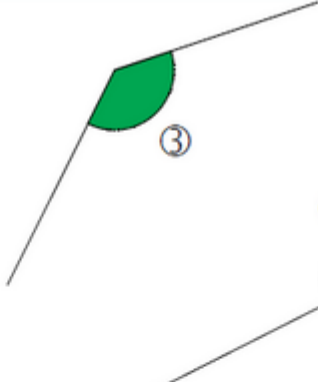
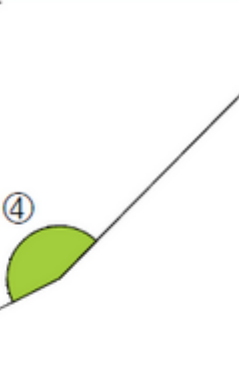

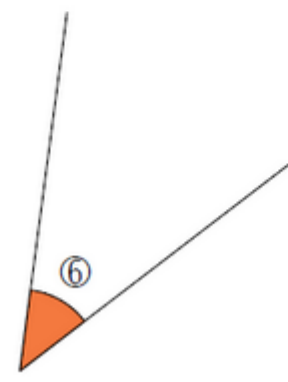
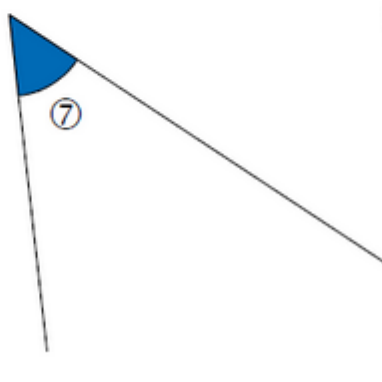





Exercices sur les angles .

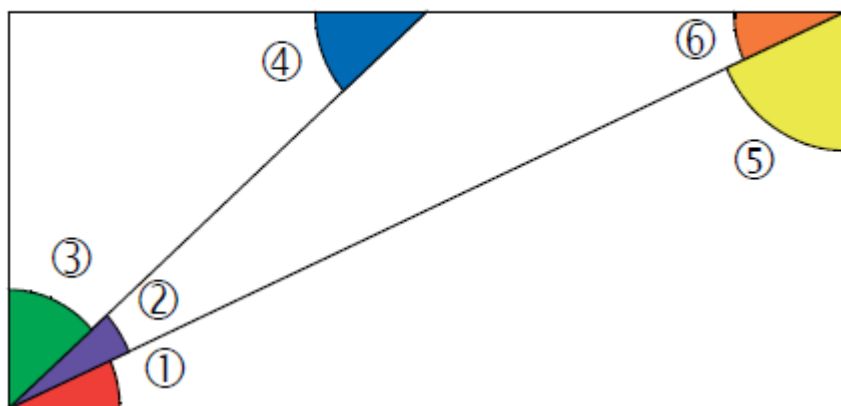
Exercice 1 : lequel est le plus angle ?.

Dans chaque cas, parmi les deux angles, lequel est le plus grand ?

 ①	ou	 ②
①		②
 ③	ou	 ④
③		④
 ⑤	ou	 ⑥
⑤		⑥
 ⑦	ou	 ⑧
⑦		⑧

Exercice 2 : une certaine figure.

On considère cette figure.



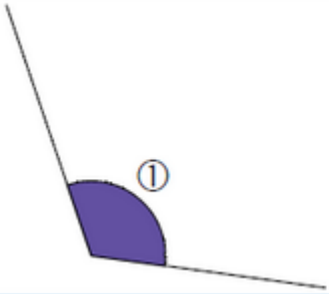
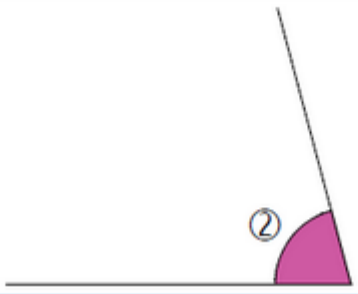
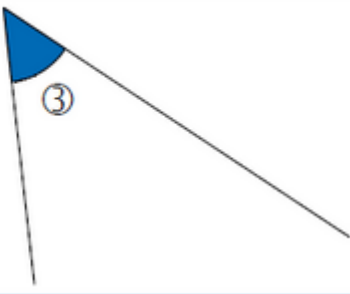
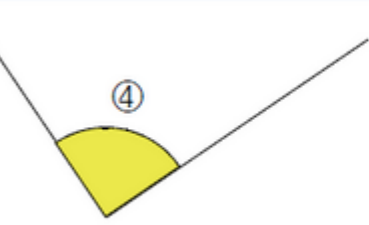
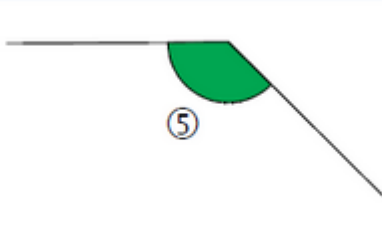
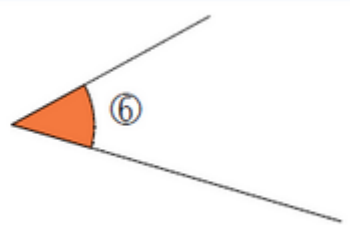
a. Complète par « plus grand que », « plus petit que » ou « égal à ».

- L'angle ③ est l'angle ⑤.
- L'angle ④ est l'angle ②.
- L'angle ⑥ est l'angle ①.

b. Range ces 5 angles du plus petit au plus grand.

Exercice 3 : angle droit, obtus ou aigu.

Chaque angle est-il droit, aigu ou obtus ?

		
<input type="checkbox"/> droit <input type="checkbox"/> aigu <input type="checkbox"/> obtus	<input type="checkbox"/> droit <input type="checkbox"/> aigu <input type="checkbox"/> obtus	<input type="checkbox"/> droit <input type="checkbox"/> aigu <input type="checkbox"/> obtus
		
<input type="checkbox"/> droit <input type="checkbox"/> aigu <input type="checkbox"/> obtus	<input type="checkbox"/> droit <input type="checkbox"/> aigu <input type="checkbox"/> obtus	<input type="checkbox"/> droit <input type="checkbox"/> aigu <input type="checkbox"/> obtus

Exercice 4 : classer ces angles.



Exercice 5 : colorier les angles obtus et aigus.



Exercice 6 : angles d'un pentagone.

