











La symétrie axiale

Exercice 1 : indiquer les axes de symétrie.

Indique si chaque figure a un axe de symétrie.

a. 	b. 	c. 	d. 
Oui Non	Oui Non	Oui Non	Oui Non
e. 	f. 	g. 	h. 
Oui Non	Oui Non	Oui Non	Oui Non