






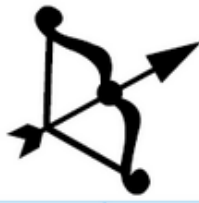


## La symétrie axiale

## Exercice 1 : indiquer les axes de symétrie

Indique si chaque figure a un axe de symétrie.

a. 	b. 	c. 	d. 
Oui    Non	Oui    Non	Oui    Non	Oui    Non
e. 	f. 	g. 	h. 
Oui    Non	Oui    Non	Oui    Non	Oui    Non